

Név:.....



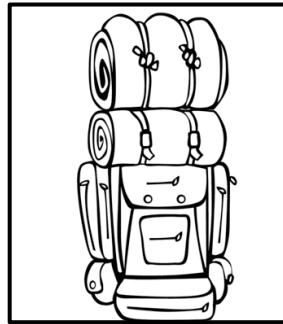
Mai dátum:.....

FELADATLAP - HONISMERET

Az ORSZÁG és az egyes KÖZSÉGEK ÁTALAKULÁSA


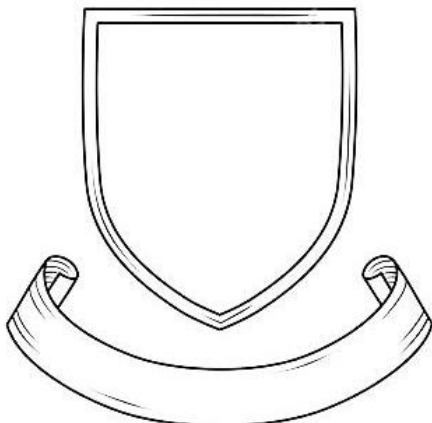
✓ **Csomagolj össze a kirándulásra!**

Színezd ki azon tárgyakat szemléltető képeket,
melyeket a hátizsákodba raksz!



További tárgyak, amelyeket bepakolok:

- Ez egy CÍMER. Ez a városod / falvad jelképe.
Keress ki és rajzold le (vagy ragaszd ide) a községed címerét!
- A másik címert alkossd meg elképzelésed szerint – ez lesz a Te országod címere. ☺



- ☉ Vegyél elő egy zseblámpát a hátizsákból és világíts a következő címerekre! Meg tudod fejteni a városok nevét?

		
acúveR	atoboS áksvamiR	cevosiT

- Keress néhány érdekességet az adott városokról az internet segítségével!

- ☉ A városok környékén ismert műemlékek találhatóak. Olvasd el a róluk szóló szöveget és keresd meg az ahhoz tartozó ábrát!

- ☉ Jelöld meg színessel a különböző helyekre vezető utat!

1. Andrassy István építette négytornyú várként. Mára már kastély.

2. Vár, amely Rozsnyó közelében található.

3. A Murány városától északra elhelyezkedő, egykor tekintélyes vár mára egy várrom.



MURÁNY
várrom

KRASZNAHORKA
vár

BETLÉR
kastély

- ☉ A különböző várakhoz és kastélyokhoz mondák kötődnek. Biztosan hallottál már róluk. Próbálj meg lerajzolni és leírni egy saját rövid mondát! Igyekezz minél szebb illusztrációt készíteni!

