

Meno:.....

Dnešný dátum:

Turistickými chodníkmi cez Malé Karpaty

Dnes sa spolu vyberieme na výlet do Malých Karpát.
Poznáte toto pohorie?

📍 Doplň do textu informácie.



Pohorie Malé Karpaty sa začína v B _____ a tiahne sa až po
N _____.

Návštevníkom ponúkajú miesta na oddych, _____ či _____.

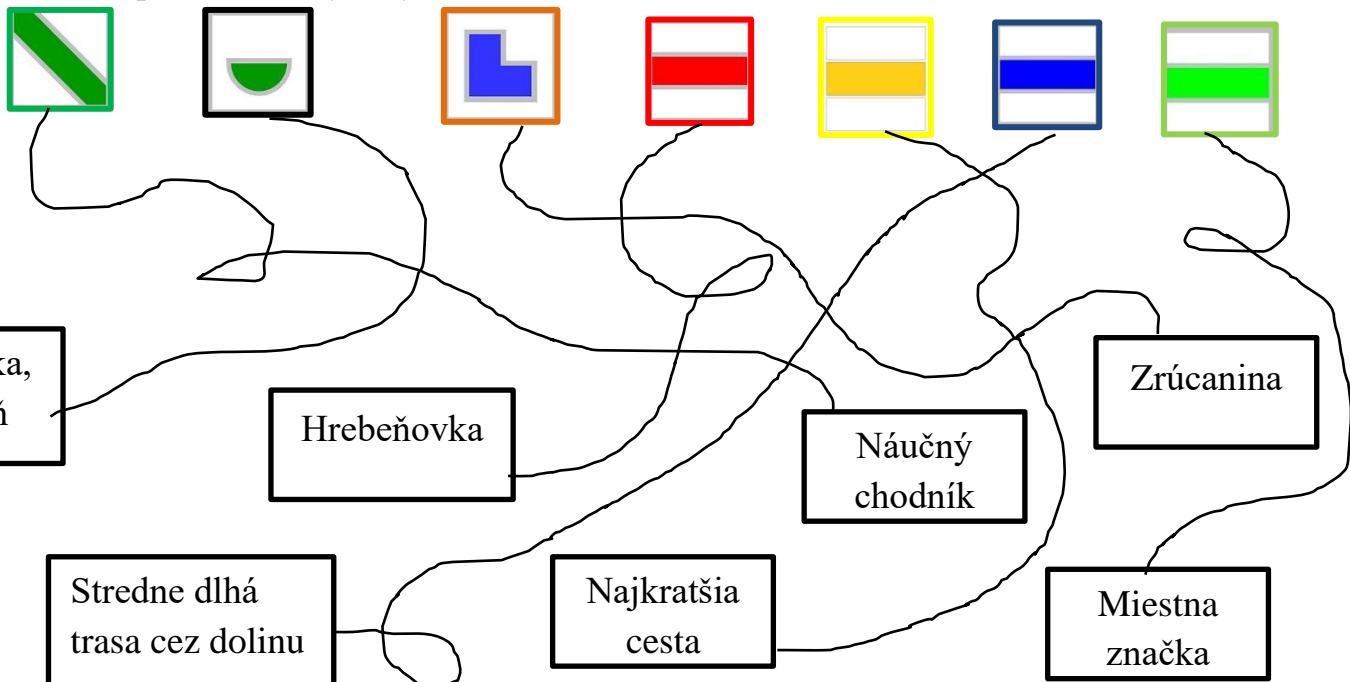
Najvyšší vrch sa volá Z _____ a má 768 m.n.m. Navštíviť môžete ďalších
_____ vyšších ako 700 metrov. Malé Karpaty ponúkajú množstvo
_____ v lesnom teréne, odkiaľ sú pekné výhľady na

P _____, na Záhorie a do R _____

Nové Mesto nad Váhom Bratislava cyklistiku turistických trás
turistiku 10 vrcholov Záruby Rakúska Podunajskú nížinu

📍 Na túre v Malých Karpatoch sú nasledujúce turistické značky.

Rozpleť chodníky a vyfarbi označenie značiek.



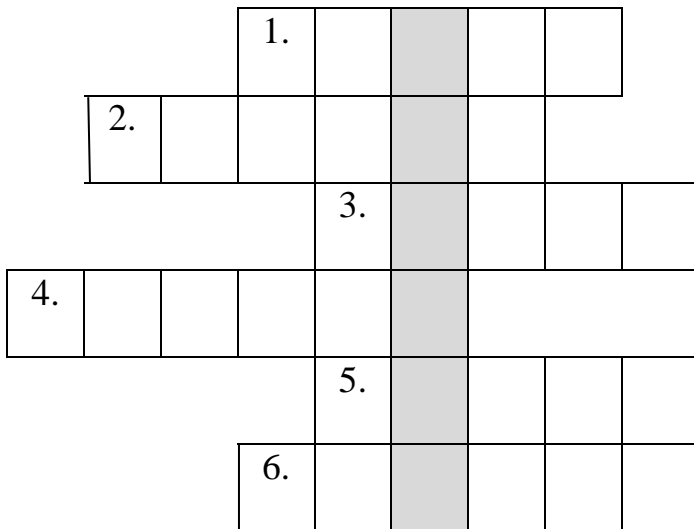


V Malých Karpatoch sa môžeš vydať po jednej z magistrál. Je pomenovaná po významnom Slovákovi. Jeho meno je:

M _____ R _____ Š _____

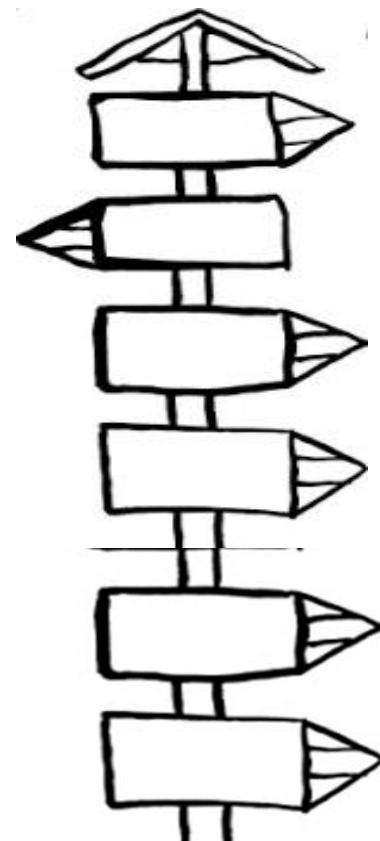



☐ Štefánikova magistrála sa začína na vrchu Bradlo, kde sa náchádza aj ...



1. Časť stromu
2. Strom, ktorý má list na vlajke Kanady
3. Kopec inak
4. Zelené časti stromov
5. Strom, z listov ktorého sa varí čaj
6. Plod duba

Ⓢ Vypíš z mapky vrchy Malých Karpát vyššie ako 700 m. Usporiadaj ich od najvyššieho do rozcestníka.


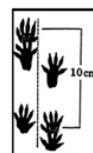

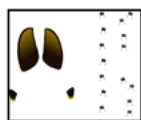


☉ Malé Karpaty sú plné listnatých stromov. Pomenuj ich.



Pomôcka (javor, lipa, pagaštan, dub, breza)

☉ Pri potulkách lesom môžeš natrafiť na stopy. Ktorému zvierat'u patria?



☉ Vieš, že aj naše národné parky majú zvieratá vo svojom logu?



➤ Napiš 3 zásady správania sa v Národnom parku:

Ako sa mi dnes darilo:

